

UỶ BAN NHÂN DÂN HUYỆN ĐẠI LỘC
TRƯỜNG TH NGUYỄN THỊ BẢY

CHÀO MỪNG QUÝ THẦY CÔ
VỀ DỰ GIỜ THĂM LỚP 2B

Môn: Toán

GV: Lê Thị Thanh





KHỞI ĐỘNG



**VÒNG QUAY
MAY MẮN**



Số gồm 2 trăm, 6 chục và 4 đơn vị được viết là:

A. 264



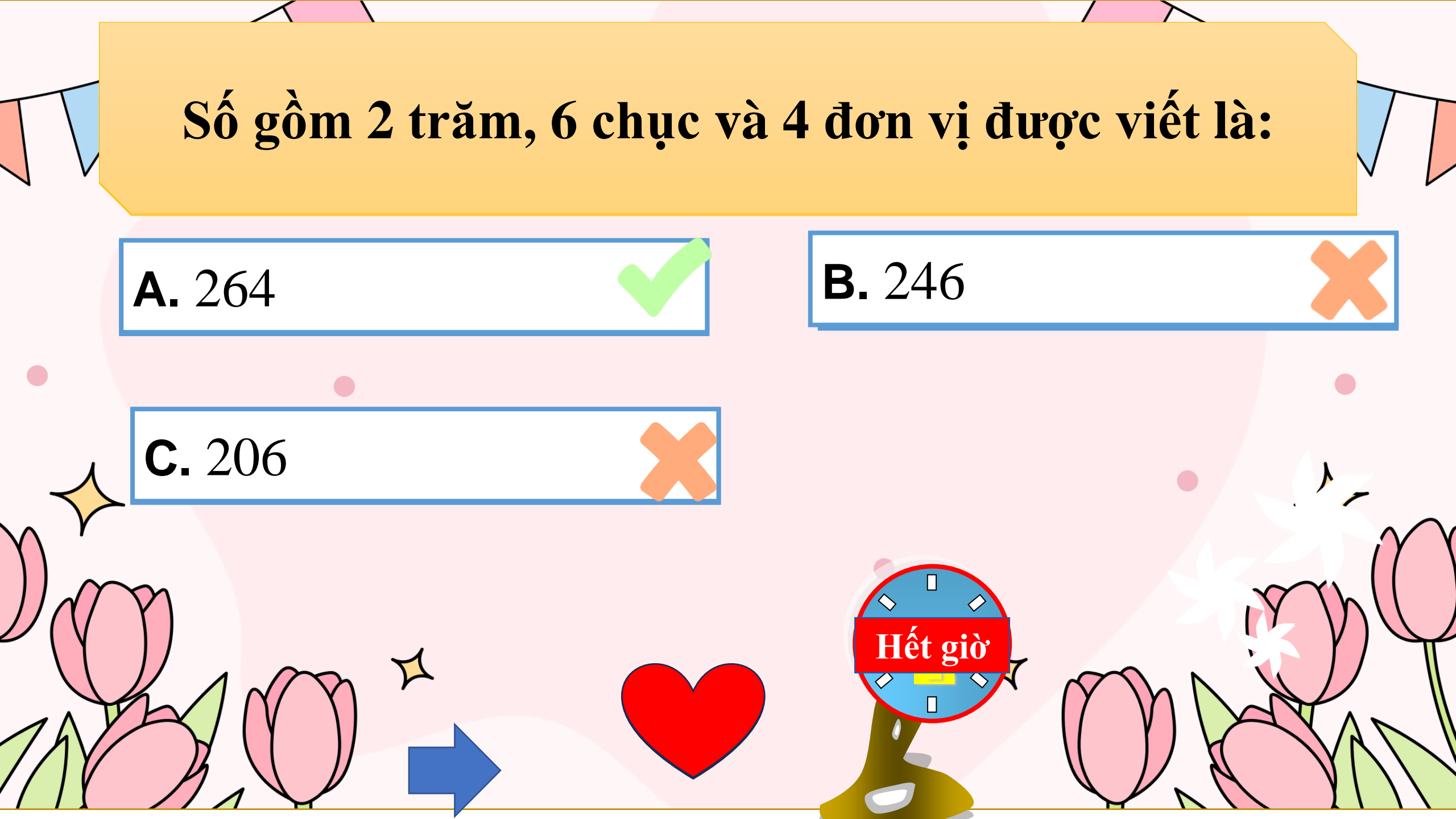
B. 246



C. 206



Hết giờ



Số?

$$312 = 300 + \boxed{?} + 2$$

A. 10




B. 30



C. 20



Hết giờ



Kết quả của phép tính cộng $30 + 40 = ?$

A. 60



B. 70



C. 50



Hết giờ





Thứ Năm ngày 3 tháng 4 năm 2025

Toán

Phép cộng (không nhớ) trong phạm vi 1000 (Tiết 1)



Tập 1 có
264 trang









Tập 2 có
312 trang



Cả hai tập có
bao nhiêu
trang?



$$264 + 312 = ?$$

Trăm	Chục	Đơn vị
		
		

$$264 + 312 = ?$$

$$\begin{array}{r}
 264 \\
 + 312 \\
 \hline
 576
 \end{array}$$


- 4 cộng 2 bằng 6, viết 6
- 6 cộng 1 bằng 7, viết 7
- 2 cộng 3 bằng 5, viết 5

$$264 + 312 = 576$$

Muốn thực hiện phép cộng (không nhớ) trong phạm vi 1000 ta thực hiện theo 2 bước:

Bước 1: **Đặt tính** theo cột dọc, sao cho các chữ số cùng hàng thẳng cột với nhau.

Bước 2: **Tính** thực hiện cộng từ phải qua trái, bắt đầu từ hàng đơn vị.



HOẠT ĐỘNG





1 Tính.

$$\begin{array}{r} 247 \\ + 351 \\ \hline 598 \end{array}$$

$$\begin{array}{r} 703 \\ + 204 \\ \hline 907 \end{array}$$

$$\begin{array}{r} 526 \\ + 32 \\ \hline 558 \end{array}$$

$$\begin{array}{r} 815 \\ + 60 \\ \hline 875 \end{array}$$



2 Đặt tính rồi tính.

$$460 + 231$$

$$\begin{array}{r} + 460 \\ \underline{231} \\ 691 \end{array}$$

$$375 + 622$$

$$\begin{array}{r} + 375 \\ \underline{622} \\ 997 \end{array}$$

$$800 + 37$$

$$\begin{array}{r} + 800 \\ \underline{37} \\ 837 \end{array}$$

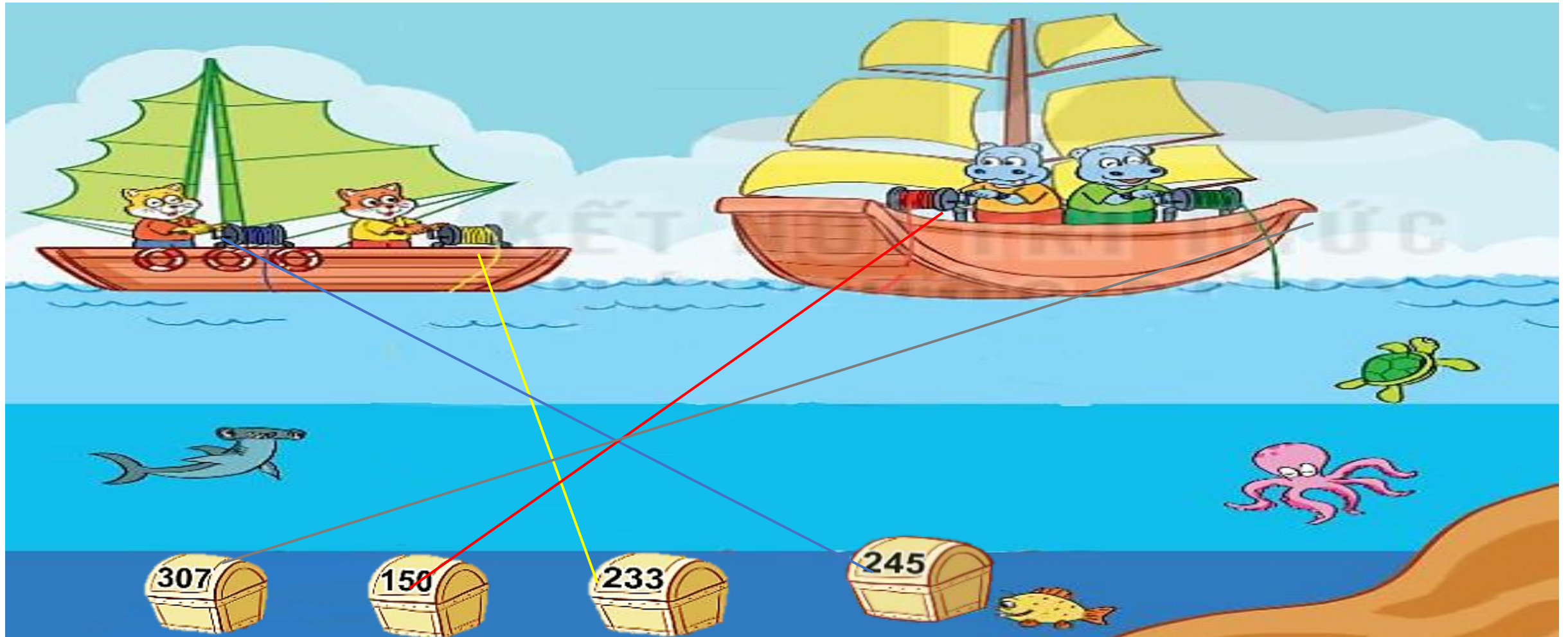
$$923 + 6$$

$$\begin{array}{r} + 923 \\ \underline{6} \\ 929 \end{array}$$



3

Mèo và hà mã vớt được những hòm đựng ngọc trai. Số viên ngọc trai được ghi trên mỗi hòm.



a)Thuyền của mèo vớt được tất cả viên ngọc trai.

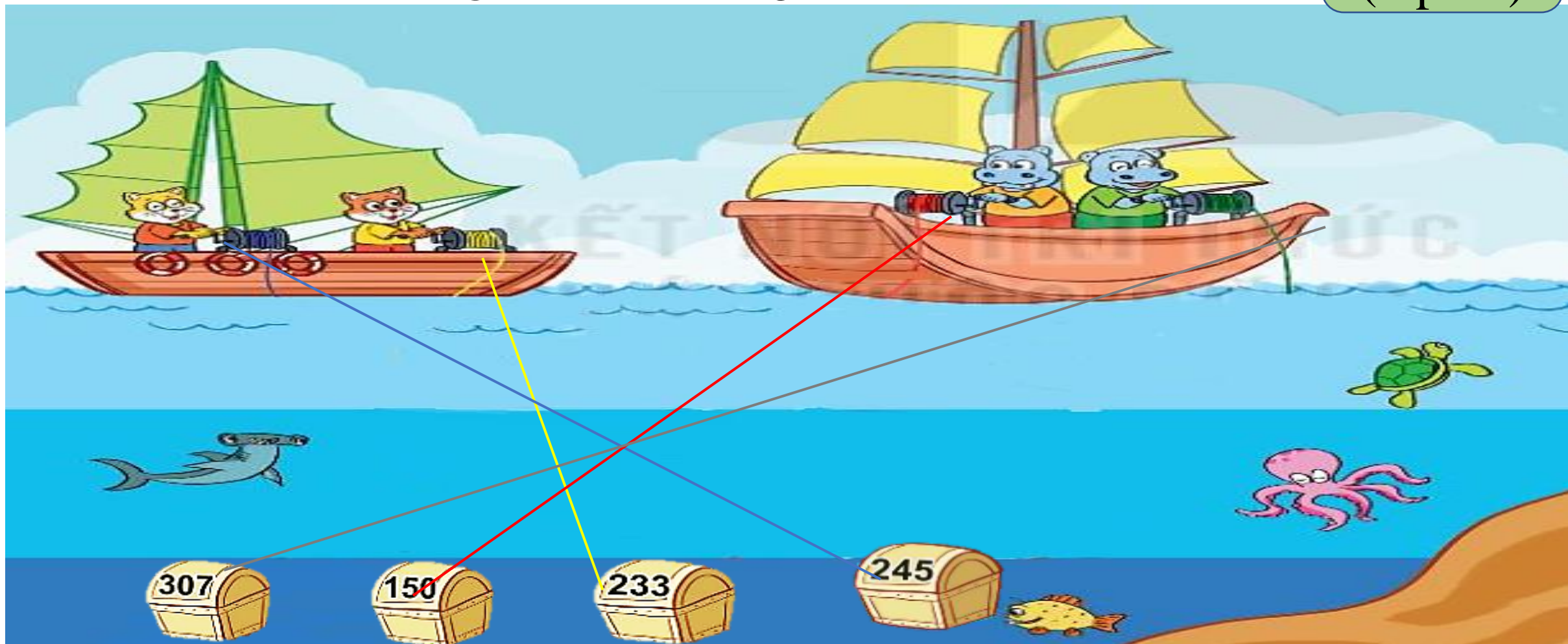
b)Thuyền của hà mã vớt được tất cả viên ngọc trai.

Số ?

3

Mèo và hà mã vớt được những hòm đựng ngọc trai. Số viên ngọc trai được ghi trên mỗi hòm.

Nhóm 2
(2 phút)



a) Thuyền của mèo vớt được tất cả **478** viên ngọc trai.

b) Thuyền của mèo vớt được tất cả **457** viên ngọc trai.

Số ?

**VẬN
DỤNG**



CỦNG CỐ





CHÂN THÀNH CẢM ƠN THẦY CÔ
VÀ CÁC EM HỌC SINH